


KANGUR 2025



ŽACZEK
KLASY 1-2

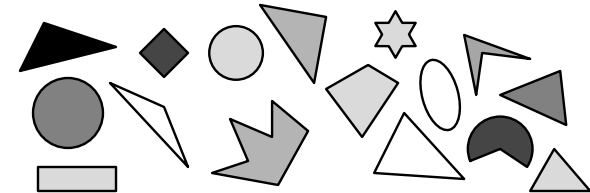
Czas trwania konkursu: 50 min
Używać kalkulatorów nie wolno!

PYTANIA PO 3 PUNKTY

1. PAWEŁ MIAŁ 6 BALONÓW. DWA BALONY DAŁ ZOSI. ILE BALONÓW MA TERAZ?

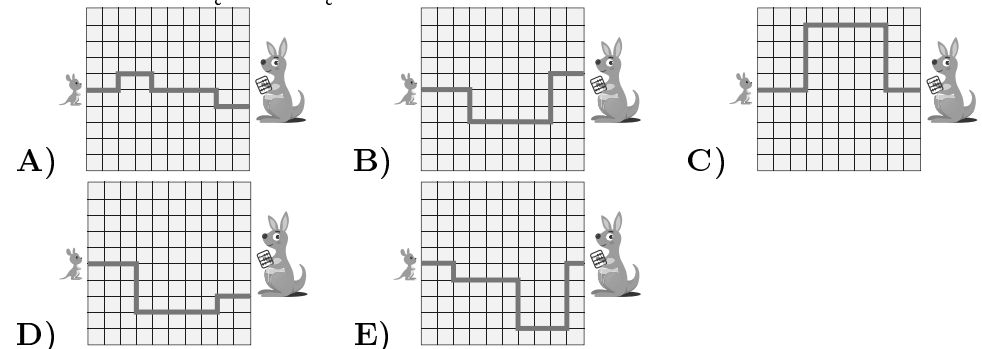
- A) 2 B) 3 C) 4 D) 5 E) 6

2. ILE TRÓJKĄTÓW ZNAJDUJE SIĘ NA OBRAZKU?

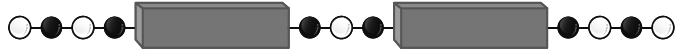


- A) 2 B) 3 C) 4 D) 5 E) 6

3. MAŁY KANGUREK CHCE DOJŚĆ DO MAMY NAJKRÓTSZĄ Z POKAZANYCH DRÓG. KTÓRĄ DROGĄ POWINIEN PÓJŚĆ?

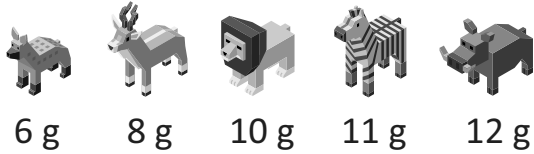


15. NA SZNURKU ZAWIESZONE SĄ KORALIKI, NAPRZEMIENNIE BIAŁE I CZARNE. KAŻDY BLOK ZAKRYWA PIĘĆ KORALIKÓW. ILE ŁĄCZNIE BIAŁYCH KORALIKÓW JEST UKRYTYCH?



- A) 5 B) 6 C) 7 D) 9 E) 10

16. NA RYSUNKU POKAZANO 5 DREWNIANYCH ZABAWEK KAROLA ORAZ PODANO ICH WAGĘ W GRAMACH.



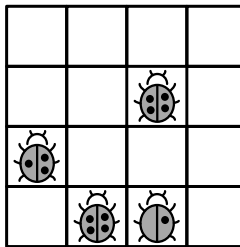
KAROL ZE SWOICH ZABAWEK WYBRAŁ 2 PARY TAK, ABY ZABAWKI W KAŻDEJ PARZE WAŻYŁY ŁĄCZNIE TYLE SAMO. KTÓREJ ZABAWKI KAROL NIE WYBRAŁ?

- A) B) C) D) E)

17. TRZY LATA TEMU ŁĄCZNY WIEK ŁUCJI I HIACYNTY WYNOŚIŁ 6 LAT. HIACYNTA MA OBECNIE 7 LAT. ILE LAT MA TERAZ ŁUCJA?

- A) 1 B) 5 C) 6 D) 7 E) 11

18. ZOSIA MA NAKLEJKI Z BIEDRONKAMI. KAŻDA BIEDRONKA MA 1, 2, 3 LUB 4 KROPKI. ZOSIA WYPEŁNIŁA PLANSZĘ SWOIMI NAKLEJKAMI TAK, ZE W KAŻDYM RZĘDZIE I W KAŻDEJ KOLUMNIE ZNAJDUJĄ SIĘ BIEDRONKI Z RÓŻNĄ LICZBĄ KROPEK. ROZPOCZĘŁA W TAKI SPOSÓB, JAK NA RYSUNKU OBOK.



JAK WYGLĄDA GÓRNY RZĄD WYPEŁNIONEJ PLANSZY?

- A) B) C) D) E)

