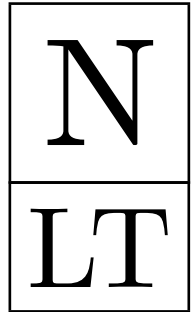


KENGŪRA 2025



NYKŠTUKAS
1–2 KLASĖS

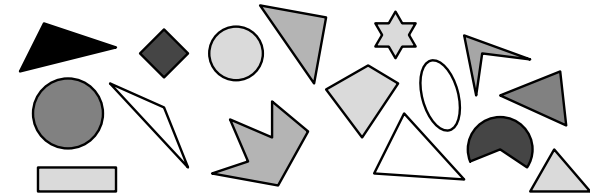
Konkurso trukmė – 50 minučių

Konkurso metu negalima naudotis skaičiuokliais

KLAUSIMAI PO 3 TAŠKUS

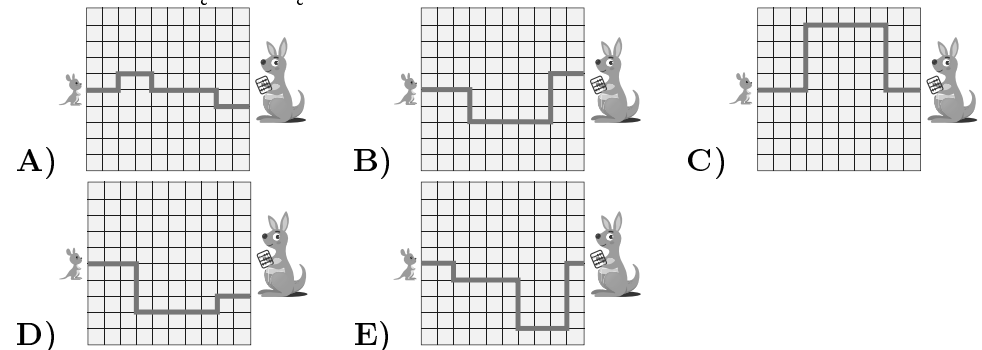
- PAULIUS TURĖJO 6 BALIONUS. DU BALIONUS JIS ATIDAVĖ BROLIUI. KIEK BALIONŲ LIKO PAULIUI?
A) 2 B) 3 C) 4 D) 5 E) 6

- KIEK TRIKAMPIŲ YRA PAVEIKSLĖLYJE?

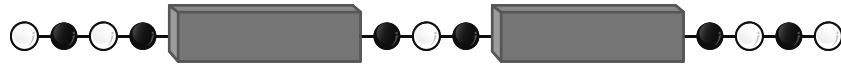


- A) 2 B) 3 C) 4 D) 5 E) 6

- MAŽOJI KENGŪRĖLĖ ŠOKUOJA PAS SAVO MAMĄ TRUMPIAUSIU IŠ PAVAIZDUOTŲ KELIŲ. KURIS KELIAS YRA TRUMPIAUSIAS?

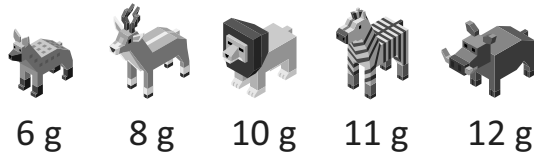


- ANT SIŪLO JUODI IR BALTI KAROLIUKAI SUVERTI PAKAITOMIS. KIEKVIENAS BLOKELIS SLEPIA PENKIS KAROLIUKUS. KIEK IŠ VISO PASLEPTA BALTŲ KAROLIUKŲ?



- A) 5 B) 6 C) 7 D) 9 E) 10

- KAROLIS TURI 5 ŽAISLUS. PAVEIKSLĖLYJE NURODYTA, KIEK GRAMŲ JIE SVERIA.

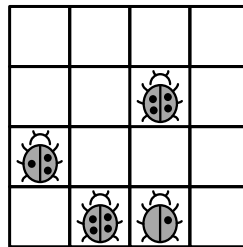


KAROLIS IŠ 4 ŽAISLŲ SUDARĖ DVI ŽAISLŲ PORAS, KURIOS SVERIA TIEK PAT. KURIS ŽAISLAS LIKO NEPANAUDOTAS?

- A) B) C) D) E)

- PRIEŠ TREJUS METUS AGNES IR BENO BENDRAS AMŽIUS BUVO 6 METAI. DABAR AGNEI 7 METAI. KIEK METŲ DABAR YRA BENUI?
A) 1 B) 5 C) 6 D) 7 E) 11


- VAIDAS TURI LIPDUKŲ SU BORUŽEMIS. KIEKVIENA BORUŽE TURI 1, 2, 3 ARBA 4 TAŠKELIUS. VAIAS NORI UŽPILDYTI LENTELĘ LIPDUKAIS TAIP, KAD JOKIOS DVI BORUŽĖS VIENOJE EILUTĖJE ARBA VIENAME STULPELYJE NETURĖTŲ PO TIEK PAT TAŠKELIŲ. KETURI LIPDUKAI JAU PRIKLIJUOTI (ŽR. PAV.). KAIP ATRODYS VIRŠUTINĖ LENTELĖS EILUTĖ, KAI VAIAS BAIGS DARBĄ?



- A) B) C)
D) E)

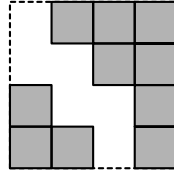
4. JONAS ATIDARĖ NAUJĄ PIEŠTUKŲ DEŽUTĘ IR IŠBĖRĖ JUOS ANT STALO (ŽR. PAV.). KIEK PIEŠTUKŲ BUVO ŠIOJE DEŽUTĖJE?

- A) 7 B) 8 C) 9 D) 14 E) 16




5. DIDYSIS KVADRATAS SUDARYTAS IŠ 16 VIENODŲ KVADRATUKŲ. KELI KVADRATUKAI PAŠALINTI (ŽR. PAV.). KIEK KVADRATUKŲ PAŠALINTA?

- A) 4 B) 5 C) 6 D) 7 E) 8

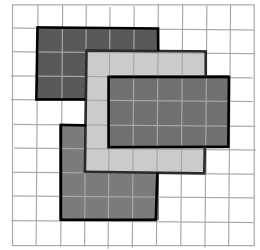


6. MYKOLO ŽAISLŲ LENTYNELEJE NĖRA NEI VEŽLIUKŲ, NEI TRIUŠIŲ, NEI ROBOTŲ. KURI LENTYNELE GALETŲ BŪTI MYKOLO?

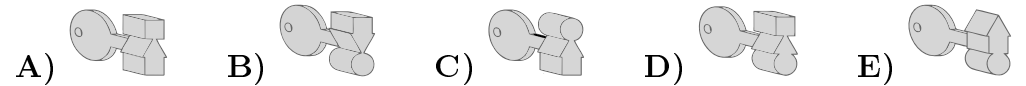


9. GRINDYS IŠKLIJUOTOS VIENODOMIS KVADRATINĖMIS PLYTELĖMIS (ŽR. PAV.). ANT GRINDŲ PATIESTI 4 STAČIAKAMPIAI KILIMĖLIAI. KIEK YRA PLYTELIŲ, KURIAS DENGIA LYGIAI 3 KILIMĖLIAI?

- A) 0 B) 1 C) 2 D) 3 E) 4




10. KURIS RAKTAS ATRAKINA PAVAIZDUOTĄJĄ SPYNĄ?



11. DU ŠUNIUKAI SVERIA TIEK PAT. DIDELIS ŠUO IR VIENAS ŠUNIUKAS KARTU SVERIA 14 KILOGRAMŲ. TAS PATS DIDELIS ŠUO IR ABU ŠUNIUKAI KARTU SVERIA 18 KILOGRAMŲ. KIEK KILOGRAMŲ SVERIA DIDELIS ŠUO?

- A) 9 B) 10 C) 11 D) 12 E) 13

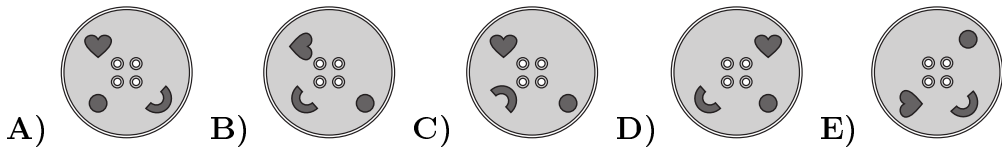


12. ANT STALO BUVO 12 VAIŠIŲ. VIDA NUĖMĖ 2 KRIAUŠES, 4 OBUOLIUS IR PUSĘ VISŲ APELSINŲ. DABAR ANT STALO LIKO TIK APELSINAI. KIEK APELSINŲ LIKO?

- A) 1 B) 2 C) 3 D) 4 E) 6

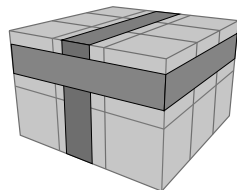
KLAUSIMAI PO 4 TAŠKUS

7. KAROLINOS MEGZTINIO VISOS SAGOS ATRODO KAIP PAVEIKSLĖLYJE DEŠINĖJE. KURI SAGA GALETŲ BŪTI IŠ JOS MEGZTINIO?



8. DVI GUMINĖS JUOSTELĖS APJUOSIA BLOKĄ, SUKLIJUOTĄ IŠ 18 KUBELIŲ (ŽR. PAV.). KELIŲ KUBELIŲ NELIEČIA NĖ VIENA JUOSTELĖ?

- A) 6 B) 8 C) 9 D) 10 E) 12



KLAUSIMAI PO 5 TAŠKUS

13. VIENA EILĖ IŠSIRIKIAVO DVYLIKA MOKINIŲ. SKAIČIUOJANT IŠ KAIRĖS, VILIUS RIKIUOTĖJE YRA PENKTAS. SKAIČIUOJANT IŠ DEŠINĖS, VIKTORAS YRA KETVIRTAS. KIEK MOKINIŲ YRA TARP VILIAUS IR VIKTORO?

- A) 1 B) 2 C) 3 D) 4 E) 5

14. MARIJOS LENTYNOJE BUVO TRYS KNYGOS (ŽR. PAVEIKSLĖLĲ DEŠINĖJE). PIRMIAUSIA MARIJA SUKEITĖ BALTA KNYGĄ SU PILKA, TADA PILKĄ KNYGĄ SU JUODA. KAIP DABAR IŠDESTYTOS JOS KNYGOS?

