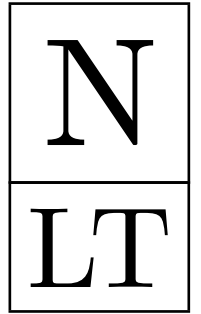


KENGŪRA 2024

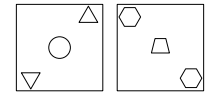
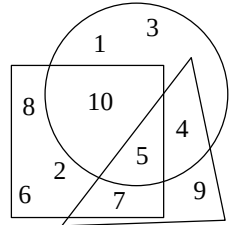


Konkurso trukmė – 50 minučių

Konkurso metu negalima naudotis skaičiuokliais

NYKŠTUKAS
1–2 KLASĖS

KLAUSIMAI PO 3 TAŠKUS



1. KURIS SKAIČIUS YRA IR TRIKAMPIO, IR KVADRATO, IR APSKRITIMO VIDUJE?

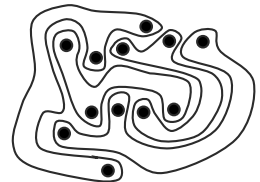
- A) 1 B) 4 C) 5 D) 9 E) 12

2. ANT DVIEJŲ VIENODŲ STIKLO PLOKŠTELIŲ NUPIEŠTOS FIGŪROS (ŽR. PAVEIKSLĖLĮ). ONUTĖ UŽDEJO VIENĄ PLOKŠTELĖ ANT KITOS, JŲ NESUKIODAMA. KĄ PAMATĖ ONUTĖ?

- A) B) C) D) E)

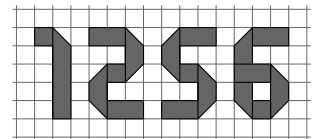
3. PAVEIKSLĖLYJE PAVAIZDUOTOS KETURIOS KEISTOS FIGŪROS. KELIŲ FIGŪRŲ VIDUJE YRA LYGIAI TRYS JUODI TAŠKAI?

- A) 0 B) 1 C) 2 D) 3 E) 4



4. NORA TUREJO KETURIAS POPIERINES JUOSTELES. IŠ JŲ SULANKSTĖ PAVEIKSLĖLYJE PAVAIZDUOTUS SKAIČIUS. KURIAM SKAIČIUI NORA PANAUDOJO ILGIAUSIĄ JUOSTELĖ?

- A) 1 B) 2 C) 5 D) 6
E) VISOS JUOSTELES YRA VIENODO ILGIO

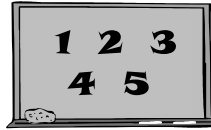


14. DU LENTELES LANGELIAI YRA GRETIMI, JEI JIE TURI BENDRĄ KRAŠTINĘ ARBA BENDRĄ TAŠKĄ. PAVYZDŽIUI, LANGELIUI SU SKAIČIUMI 2 GRETIMI YRA LANGELIAI SU SKAIČIAIS 4, 12, 1, 5 IR 10. KURIS PAVAIZDUOTOS LENTELES SKAIČIUS YRA LYGUS SKAIČIŲ, ESANČIŲ GRETIMUOSE LANGELIUOSE, SUMAI?

3	1	7
12	1	5
4	2	10

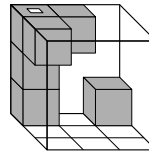
- A) 3 B) 5 C) 7 D) 10 E) 12

15. JOKŪBAS NORI PASIRINKTI DU IŠ PENKIŲ PAVEIKSLĖLYJE UŽRAŠYTŲ SKAIČIŲ IR APSKAIČIUOTI JŲ SUMĄ. KIEK SKIRTINGŲ REZULTATŲ JIS GALI GAUTI?



- A) 5 B) 6 C) 7 D) 8 E) 10

16. RUSNĖ TURI PERMATOMĄ KUBĄ, KURIAME YRA 6 MAŽI KUBELIAI (ŽR. PAVEIKSLĖLĮ). KĄ MATO RUSNĖ, ŽVELGDAMA Į KUBĄ IŠ VIRŠAUS?



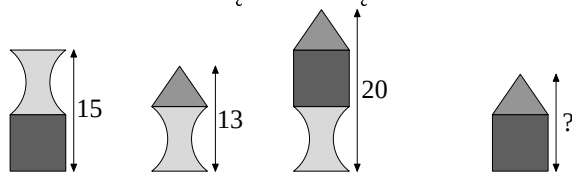
- A) B) C) D) E)

17. JONĖ, LAURA, IGNAS IR TOMAS TURI PO TRIS SKIRTINGUS LIPDUKUS. KIEKVIENAS VAIKAS SU KIEKVIENU KITU VAIKU TURI LYGIAI PO VIENĄ TOKĮ PAT LIPDUKĄ. JONĖS, LAUROS IR IGNO LIPDUKAI PAVAIZDUOTI PAVEIKSLĖLYJE. KOKIE YRA TOMO LIPDUKAI?

Jonė
Laura
Ignas

- A) B) C)
D) E)

18. MYKOLAS IŠ TRIJŲ RŪŠIŲ FIGŪRŲ SUKROVĖ KETURIS BOKŠTUS. PAVEIKSLĖLYJE PATEIKTI TRIJŲ BOKŠTŲ AUKŠČIAI.



KOKS YRA KETVIRTOJO BOKŠTO AUKŠTIS?

- A) 12 B) 13 C) 14 D) 16 E) 17

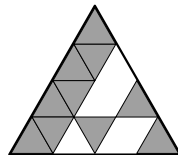
5. PAVEIKSLĖLYJE PAVAIZDUOTI 8 SKIRTINGI VEIDAI.



KIEKVIENAS VEIDAS PAVAIZDUOTAS DU KARTUS, IŠSKYRUS VIENĄ. KURIS VEIDAS PAVAIZDUOTAS TIK VIENĄ KARTĄ?

- A) B) C) D) E)

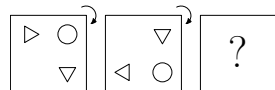
6. BENAS IŠ VIENODŲ MAŽŲ TRIKAMPIŲ KORTELĖLIŲ DĒLIOJA DIDELĒ TRIKAMPĪ (ŽR. PAVEIKSLĒLĪ). KORTELES JIS DĒLIOJA TAIP, KAD JOS NEUŽDENGŤŪ VIENA KITOS. KIEK DAR KORTELĖLIŲ REIKĒS BENUI DIDŽIAJAM TRIKAMPIUI UŽBAIGTI?



- A) 3 B) 4 C) 5 D) 6 E) 7

KLAUSIMAI PO 4 TAŠKUS

7. ARTŪRAS KORTELĒJĒ NUPIEŠĒ TRIS FIGŪRAS. JIS DU KARTUS PASUKO KORTELĒ, PO KETVIRTĪ PILNO APSISUKIMO (ŽR. PAVEIKSLĒLĪ).



KAIP ATRODĒ KORTELĒ PO ANTROJO PASUKIMO (KORTELĒ, PAŽYMETĀ KLAUSTUKU)?

- A) B) C) D) E)

8. ELENA PRISPAUDĒ PAVAIZDUOTĀ ANTSPAUDA. KOKĪ PAVEIKSLĒLĪ JI GAVO?



- A) B) C) D) E)

9. SIMONAS TURI KETURIS VIENODUS BLOKELIUS: KURIOS FIGŪROS JIS NEGALI SUDARYTI IŠ TŪ BLOKELIŪ?

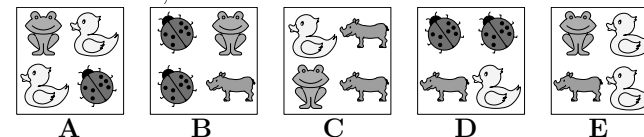
- A) B) C) D) E)

10. PAVEIKSLĒLYJE PO SKIRTINGOMIS FIGŪROMIS PASLEPTI SKIRTINGI SKAIČĪI, O PO VIENODOMIS FIGŪROMIS – VIENODI SKAIČĪI. KOKS SKAIČIUS SLEPIASI PO ★ ?


	+	+	
+			
			9
			10
10	5	4	

- A) 2 B) 3 C) 4 D) 5 E) 6

11. MONIKA TURI 5 DEŽES, KIEKVIENOJE DEŽĒJĒ YRA PO 4 ŽAISLUS.



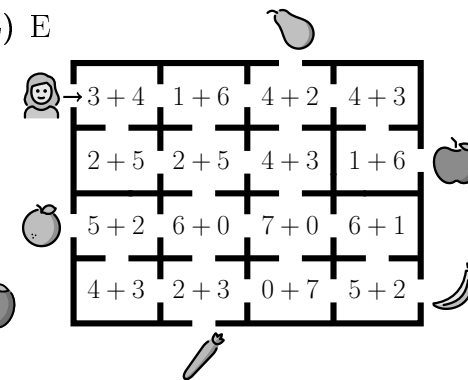
ŽAISDAMA MONIKA IŠĒMĒ ŽAISLUS IŠ KETURIŪ DEŽIŪ IR IŠDĒLIOJO JUOS ANT GRINDŪ (ŽR. PAVEIKSLĒLĪ).



IŠ KURIOS DEŽES MONIKA ŽAISLŪ NEĒMĒ?

- A) A B) B C) C D) D E) E

12. KOTRYNA EINA PER LABIRINTĀ. JI GALI ĪEITI TIK Ī TUOS KAMBARIUS, KURIUOSE ESANČIŪ SKAIČIŪ SUMA YRA LYGI 7. KURĪ SKANĒSTĀ MERGAITE GALI PASIEKTI?



- A) B) C) D) E)

KLAUSIMAI PO 5 TAŠKUS

13. MAGDE SUDARĒ 5 ANTSPAUDUKŪ EILĒ . JI TOLIAU KARTOJO ANTSPAUDUKUS TA PAČIA TVARKA:



KURIS PAVEIKSLĒLĪS ŠIOJE EILUTEJĒ YRA 27-OJĒ VIETOJĒ?

- A) B) C) D) E)